



# УСТНЫЙ СЧЕТ

1класс

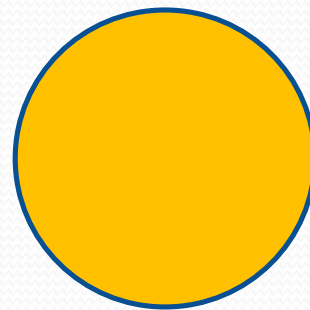




**РЕБЯТА,  
ПРИГЛАШАЕМ ВАС НА  
МАТЕМАТИЧЕСКУЮ  
РАЗМИНКУ.**





*По каким  
признакам  
меняются  
фигуры в  
ряду?*





***НАЙДИ ОШИБКУ.***




**Увеличь 4  
на 2.**

**Проверь  
6**








**Уменьши  
8 на 4.**

**Проверь  
4**



# СОБЕРИ ЯБЛОКИ В КОРЗИНУ С ОТВЕТОМ 8





**РАСПОЛОЖИ ЧИСЛА В  
ПОРЯДКЕ  
ВОЗРАСТАНИЯ**

**9 4 6 1 7 3 0**





**КАКИЕ ЧИСЛА НУЖНО  
ВСТАВИТЬ, ЧТОБЫ  
ПОЛУЧИЛСЯ  
ЧИСЛОВОЙ РЯД**

**0 1 3 4 6 7 9**



Проверь.

0 1 **2** 3 4 **5** 6 7 **8** 9



**НАЗОВИ  
ПРЕДЫДУЩЕЕ  
ЧИСЛО.**

**2**

**5**

**8**



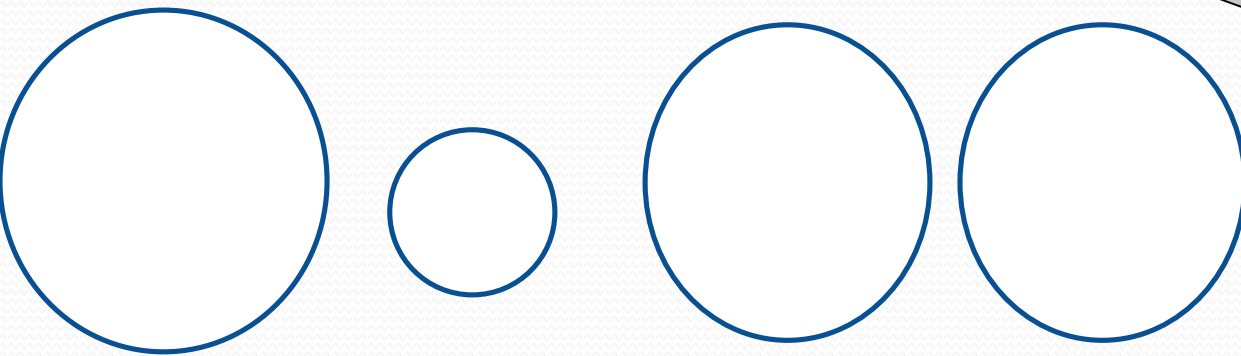
**НАЗОВИ  
ПОСЛЕДУЮЩЕЕ ЧИСЛО.**

**2**

**5**

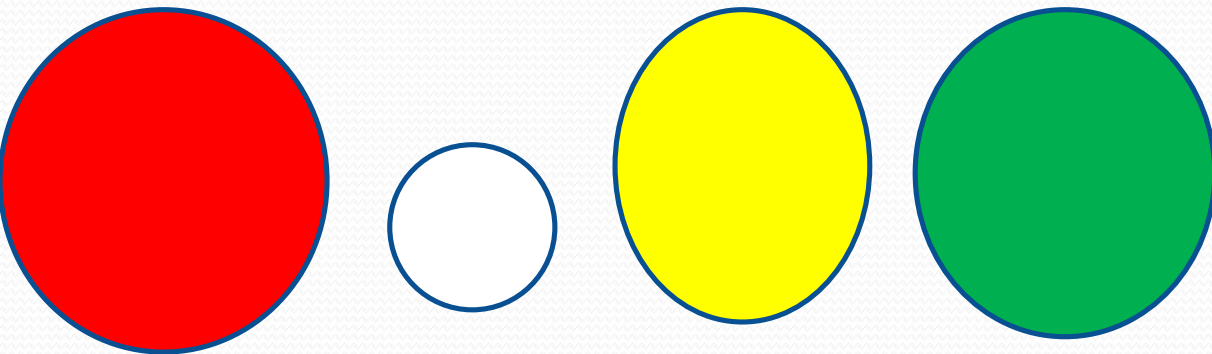
**8**

# РАСКРАСЬ ФИГУРЫ



Раскрась кружки так, чтобы  
маленький был между жёлтым и  
красным, а жёлтый был рядом с  
зелёным

# РАСКРАСЬ ФИГУРЫ



Раскрась кружки так, чтобы маленький был между жёлтым и красным, а жёлтый был рядом с зелёным

# Игра «цепочка»

$$4+3-2-1+2+4-10 = 0$$